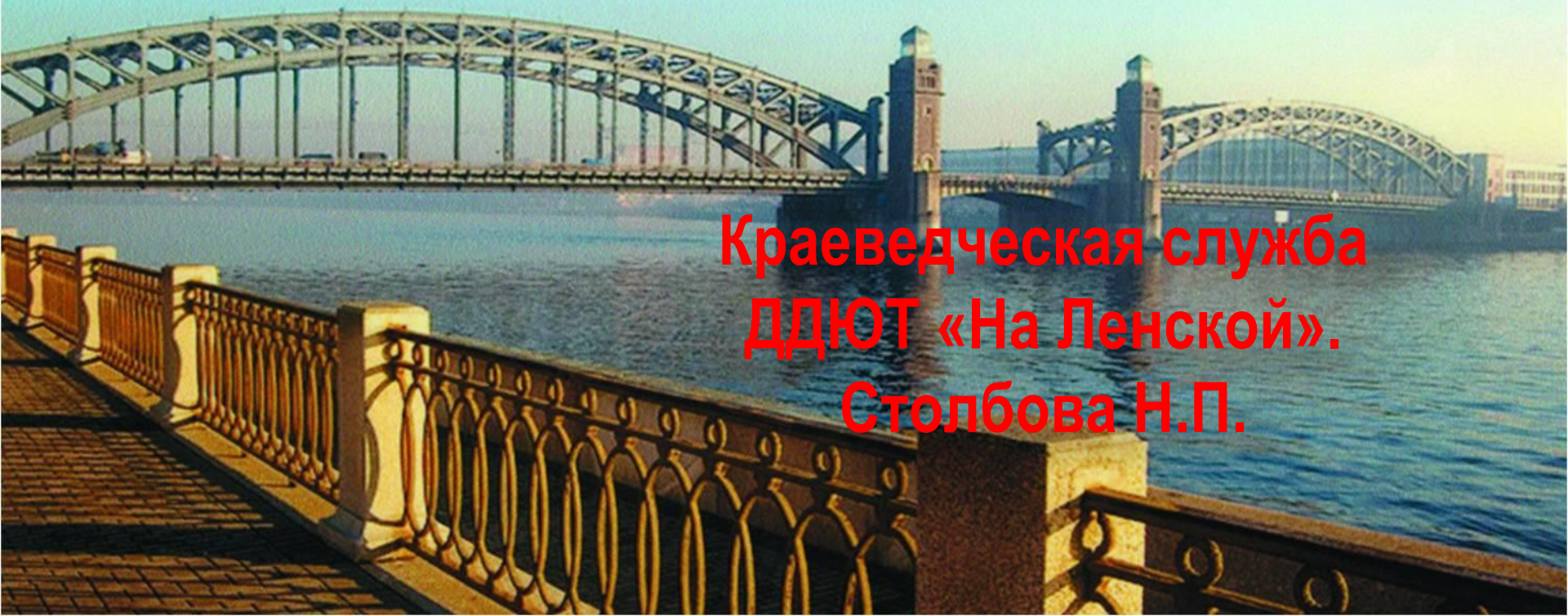


ВИКТОРИНА

Знаешь ли ты свой район?

Краеведческая служба
ДДЮТ «На Ленской».
Столбова Н.П.



1

Рассмотрите карту Санкт-Петербурга

В какой части города находится Красногвардейский район?

- а) на западе
- б) на северо-востоке
- с) на юге



2

Название Красногвардейского района связано?

- a) с Красной гвардией, появившейся в Петрограде в 1917 году
- b) с Великой Отечественной войной 1941 – 1945гг.
- c) с современным Санкт-Петербургом



Значок Красной гвардии



А.Ю. Дроздов «Хлеб войны», 2005



Проект «Охта-центр»

3

Какие реки протекают на территории Красногвардейского района?

- а) Охта и Оккервиль
- б) Мойка и Фонтанка
- с) Большая и Малая Невка



4

Название **Охта** в переводе означает?

- a) Волчья b) Заячья c) Медвежья




«Весна на Охте». Художник Марк Кремер, 2008

5

Перед Вами этикетка минеральной воды. Так же называется и округ в составе Красногвардейского района. Название «Полюстрово» происходит от латинского palustris, что означает?

- а) болотистый б) обширный в) тенистый



6

Название Ириновского проспекта происходит от?

- a) имени Ирина
- b) фамилии владельца этих территорий
- c) названия Ириновской железной дороги, по трассе которой проходит сейчас проспект



Ириновский проспект

7

Назовите имя советского исторического деятеля 1960 – 1980-х гг., в честь которого был назван проспект в нашем районе:

- a) А.Н. Косыгин
- b) Ю.В. Андропов
- c) Л.И. Брежнев



8

Какой мост **не связывает** Красногвардейский район с другими районами города?

- а) Большеохтинский (мост Петра Великого)
- б) Благовещенский (Николаевский)
- с) Александра Невского



9


Рассмотрите картину
«Охтинки».
Какой промысел был
основным занятием
этих жительниц
Петербурга
в середине XIX века?

- а) мясной
- б) молочный
- с) рыбный



«Охтинки». В.Ф.Тимм

10



В 1750г. охтинские резчики принимали участие в создании модели монастыря. Что это был за монастырь?


- a) Иоанновский
- b) Смольный
- c) Новодевичий



11

Рассмотрите картину зимних гуляний на Неве XVIII – XIX веков. Как назывались в это время ледяные горки?

- a) американские
- b) русские
- c) французские



12

Соотнесите памятник архитектуры с его изображением:

А.

1. Дом для проживания священников в Ильинской слободе
2. Усадьба «Жерновка»
3. Уткина дача



В.



С.



13



Рассмотрите изображение.
Что Вы видите на
фотографии?

- а) храм Святого Илии
Пророка
- б) храм Святого Николая
Чудотворца
- с) храм Святого Илии
Пророка и храм Святого
Александра Невского

Шоссе Революции, 75

14

Рассмотрите фотографию. Что на ней изображено?

- а) склады купцов Елисеевых
- б) казармы Новочеркасского полка на Новочеркасском проспекте
- с) старый гостиный двор



Красногвардейская площадь, дом 3, литеры Д, Ф, В, Б, Х



25 сентября 1911 года охтяне возвели основателю охтинских селений Петру I памятник, который был утрачен, но вновь создан в 2003 году к 300-летию Петербурга.

По какому адресу находится этот памятник Петру I?

- а) Большеохтинский пр., 3
- б) Малоохтинский пр., 56
- с) шоссе Революции, 11

16

Соотнесите памятники Великой Отечественной войны 1941-1945 гг., расположенные на территории Красногвардейского района и их изображения:

1. Памятник погибшим в годы войны рабочим и служащим Охтинского химического комбината
2. Монумент на Мемориальной трассе «Ржевский коридор блокады» (ул. Красина)
3. «1-й км Дороги жизни». Мемориальный столб (Рябовское шоссе)

A.



B.



C.




17

Во время блокады эвакуация из Ленинграда шла не только по льду или воде Ладоги, но и по воздуху. Для этого на территории нашего района в сентябре 1941г. был построен аэродром, который во время войны назывался?

а) «Дубовое»

б) «Еловое»

в) «Смольное»




Пассажирский самолёт ЛИ - 2

19

Судостроительное предприятие «Петрозавод» в годы Великой Отечественной войны 1941-1945 гг. выпускало?

- а) суда для перевозки людей по Ладожскому озеру
- б) оптические приборы
- в) ювелирные изделия





Оформление станции метро «Ладожская» было посвящено?

- а) «пути из варяг в греки»
- б) Ладожскому каналу Петра I
- в) «Дороге жизни» во время блокады

20

На 3-ем километре Дороги жизни находится мемориальный комплекс, посвященный детям блокадного города. Как называется памятник, который Вы видите на фото?

- а) «Цветок Жизни»
- б) «Цветок славы»
- с) «Цветок памяти»



Ключ к викторине

1-b

2-a

3-a

4-c

5-a

6-c

7-a

8-b

9-b

10-b

11-b

12-(1-A, 2-B, 3-C)

13-c

14-b

15-a

16-(1-B, 2-A, 3-C)

17-c

18-c

19-a

20-a